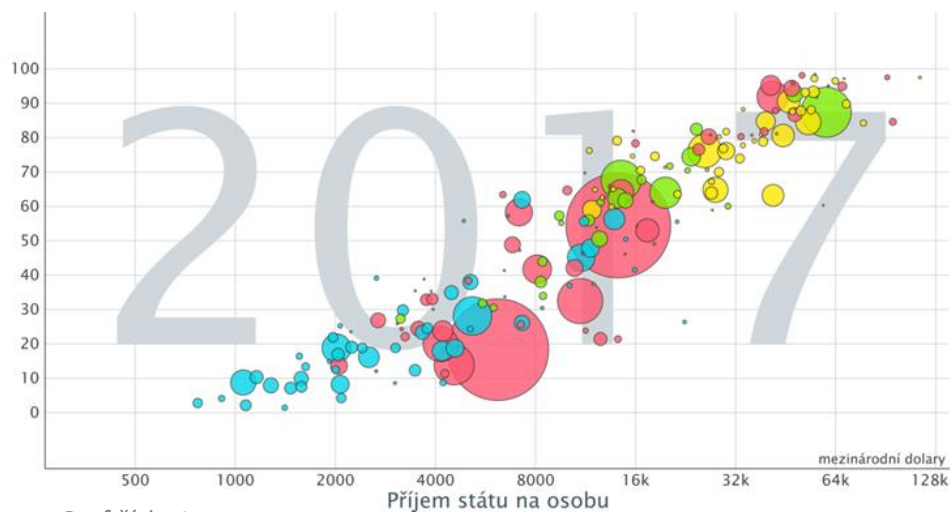
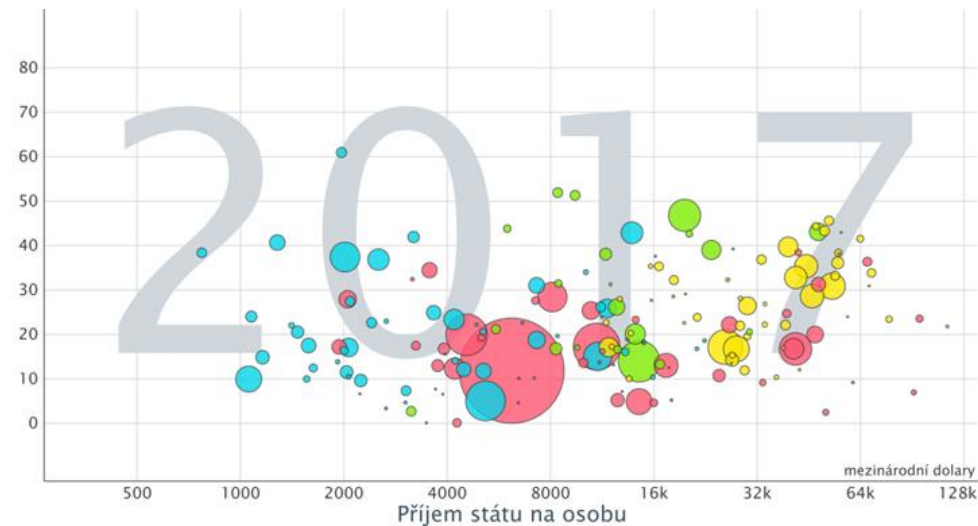


SPOJOVAČKA GRAFŮ S POPISKY OS

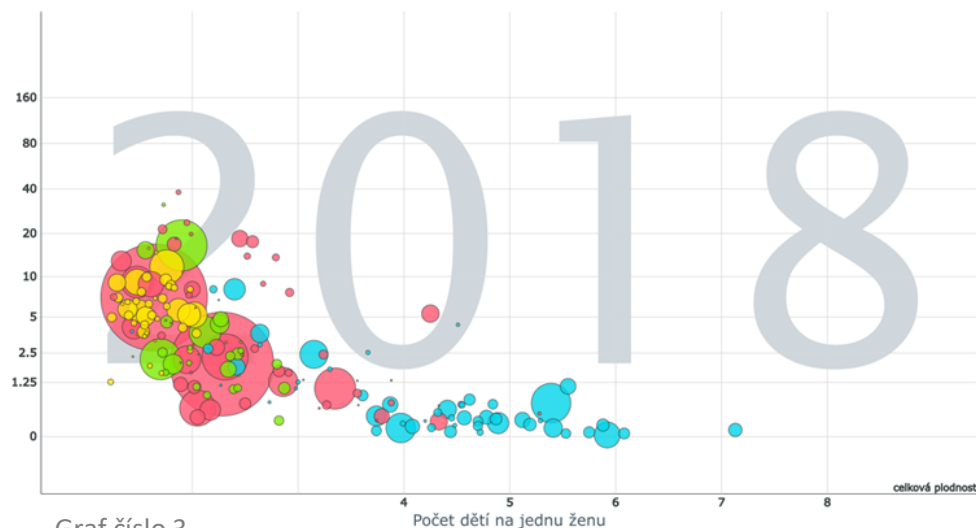
PŘIŘAĎTE GRAFY K POPISKŮM OS A URČETE VZTAH MEZI ZOBRAZOVANÝMI JEVY



Graf číslo 1



Graf číslo 2



Graf číslo 3

Popisky os:

- a) y: Jedinci využívající internet (% populace)
- b) y: Emise CO₂ (tuny na osobu)
- c) y: Procento žen v parlamentu

Vztahy mezi jevy:

- I) Kladná závislost
- II) Nezávislé
- III) Záporná závislost

ŘEŠENÍ		
Číslo grafu	Popisky os	Vztah mezi jevy
Graf 1		
Graf 2		
Graf 3		



EVROPSKÁ UNIE
Evropské strukturální a investiční fondy
Operační program Výzkum, vývoj a vzdělávání



Digitální vzdělávací zdroj pro výuku zeměpisu,
RČ: CZ.02.3.68/0.0/0.0/18_067/0012346