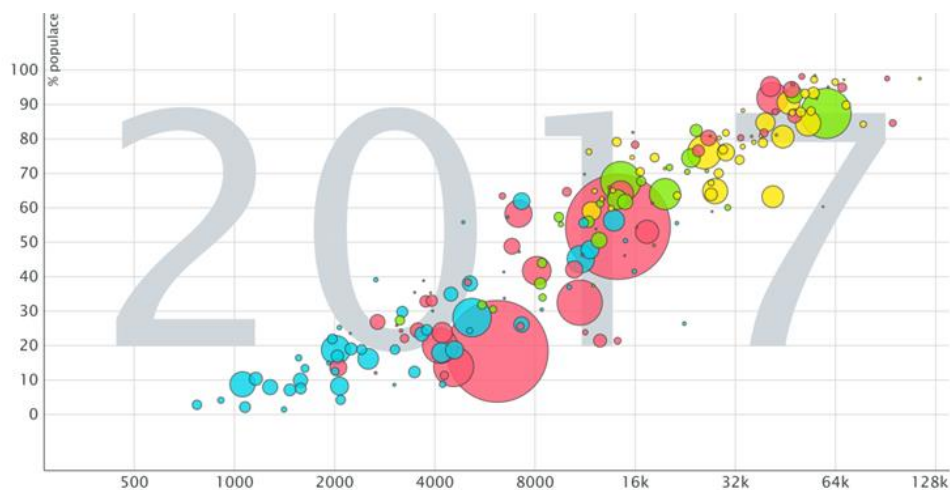
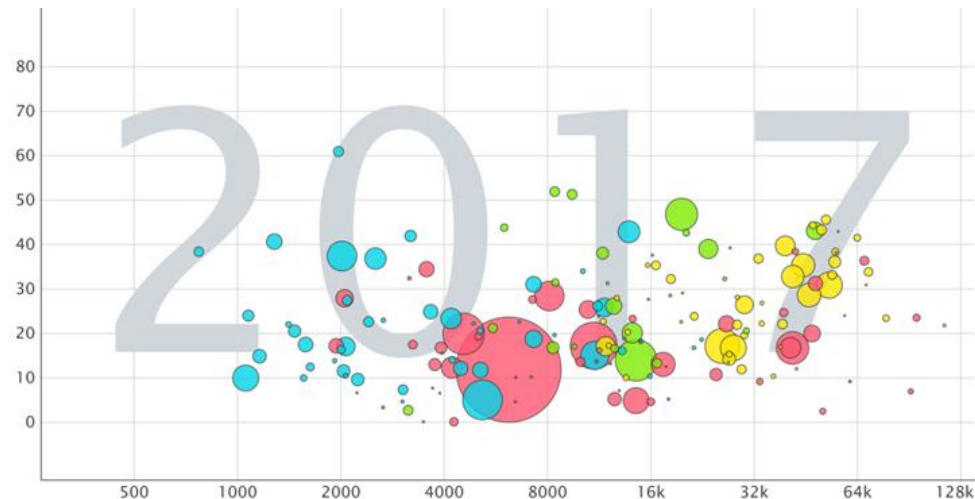


## SPOJOVAČKA GRAFŮ S POPISKY OS

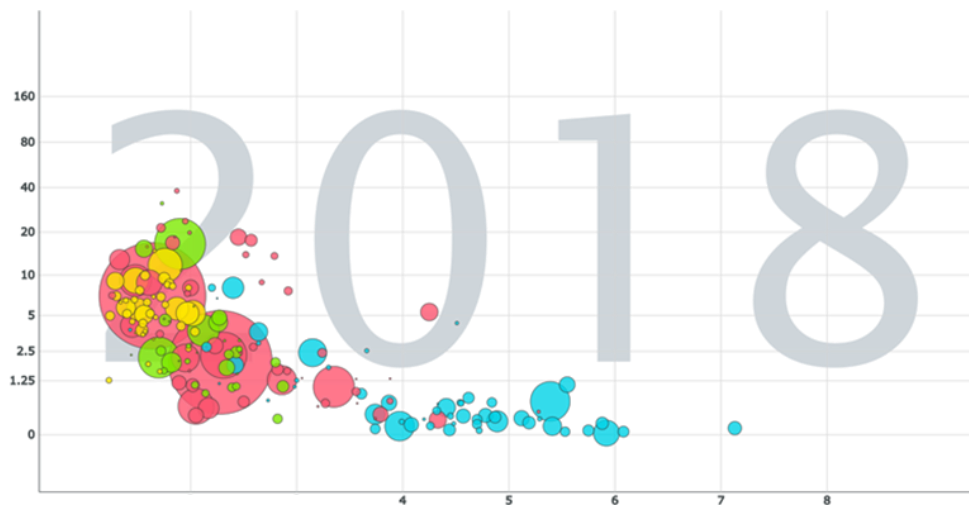
PŘÍŘAĎTE GRAFY K POPISKŮM OS A URČETE VZTAH MEZI ZOBRAZOVANÝMI JEVY



Graf číslo 1



Graf číslo 2



Graf číslo 3

### Popisky os:

- a) x: Příjem státu na osobu (mezinárodní dolary)  
y: Jedinci využívající internet (% populace)
- b) x: Děti na jednu ženu  
y: Emise CO<sub>2</sub> (tuny na osobu)
- c) x: Příjem státu na osobu (mezinárodní dolary)  
y: Procento žen v parlamentu

### Vztahy mezi jevy:

- I) Kladná závislost
- II) Nezávislé
- III) Záporná závislost

ŘEŠENÍ		
Číslo grafu	Popisky os	Vztah mezi jevy
Graf 1		
Graf 2		
Graf 3		



EVROPSKÁ UNIE  
Evropské strukturální a investiční fondy  
Operační program Výzkum, vývoj a vzdělávání



Digitální vzdělávací zdroj pro výuku zeměpisu,  
RČ: CZ.02.3.68/0.0/0.0/18\_067/0012346